

Adı : .....  
Soyadı: .....

## 2. Sınıf Matematik

### Uzunluk Ölçme-3



Bir nesnenin uzunluğunu karış, ayak, adım, kulaç ile ölçebiliriz.

Ancak herkesin ölçüleri standart (eşit) olmadığından farklı sonuçlar çıkar.



Metre ve cetvel standarttır. Yani herkesin metresi ve cetveli eşittir.

Bir nesnenin uzunluğunu ölçmek için cetvel ya da metre kullanmak daha doğrudur.

Standart ölçme araçlarının isimlerini yazalım.



Gönye



Cetvel



Şerit Metre




Mezura




Kırık Metre


Aşağıdaki kalemelerin uzunluklarını yazınız.



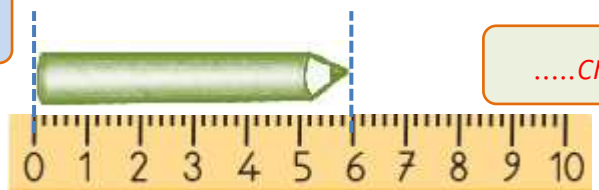
.....cm



.....cm



.....cm



.....cm

Adı : .....  
Soyadı: .....

## 2. Sınıf Matematik


### Uzunluk Ölçme-3

Aşağıdaki çubukların uzunluklarını cetvel ile ölçüm yazınız.




Cetvelle ölçerken  
nesnenin bir  
ucunu tam olarak  
0'ın (sıfır)  
çizgisine getirmeyi

Diğer ucu hangi sayıya  
denk geldiyse nesnenin  
uzunluğunu buluruz.




..... cm



..... cm



..... cm



.....



.....



.....



.....

En uzun çubuk ..... renklidir.  
Uzunluğu ..... santimetredir.

En kısa çubuk ..... renklidir.  
Uzunluğu ..... santimetredir.

Yeşil çubuk pembe çubuktan .....cm daha  
.....

Kırmızı çubuk mavi çubuktan .....cm  
daha .....